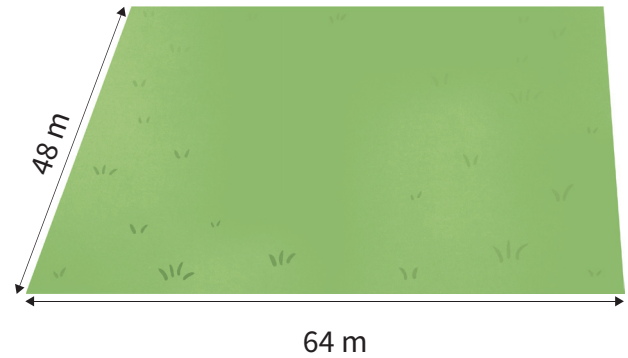
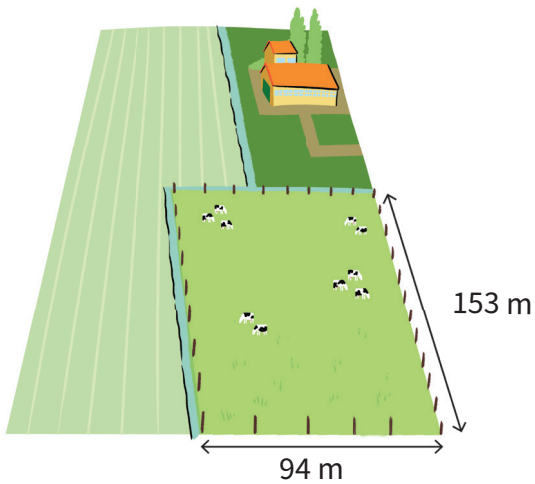




Bereken de omtrek en oppervlakte

Doorstroomtoets



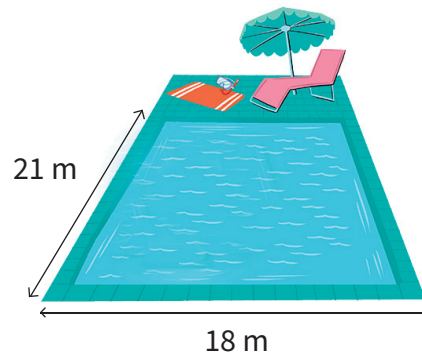
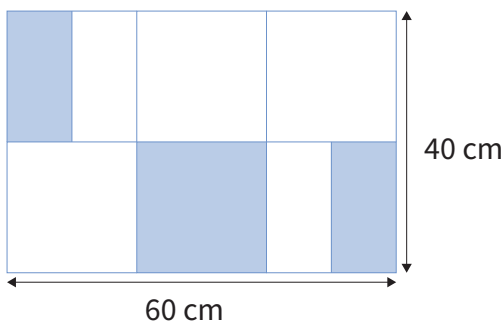
Een boer heeft een weiland van 153 meter lang en 94 meter breed.

Wat is de oppervlakte van dit weiland?

Wat is de omtrek van het weiland?

_____ m²

_____ m



Het nieuwe zwembad is 18 meter breed en 21 meter lang.

Wat is de oppervlakte van het witte deel?

Wat is de omtrek van het nieuwe zwembad?

_____ cm²

_____ m

€ 59,95



Oefenboeken van Junior Einstein

De beste voorbereiding op de Doorstroomtoets

+ online uitleg bij elke vraag



Scan & bestel direct!

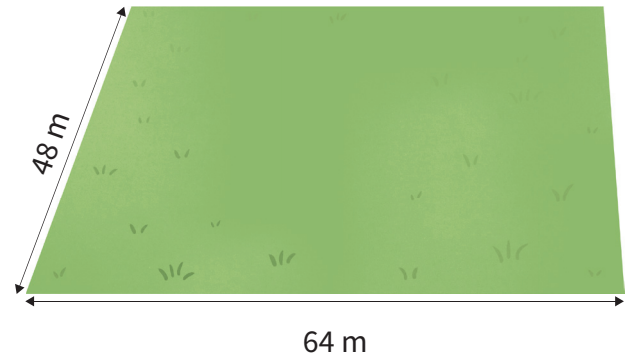
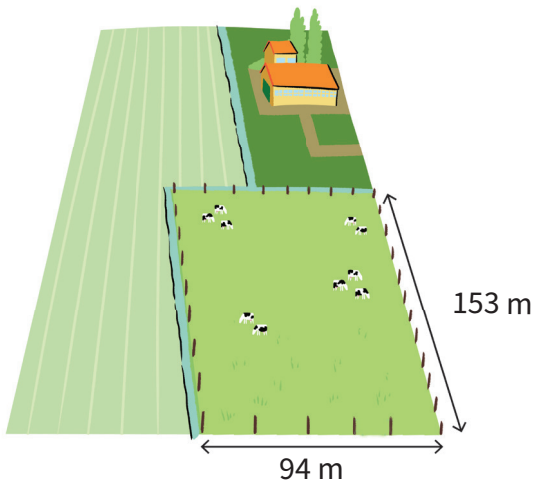




ANTWOORDENBLAD

Bereken de omtrek en oppervlakte

Doorstroomtoets



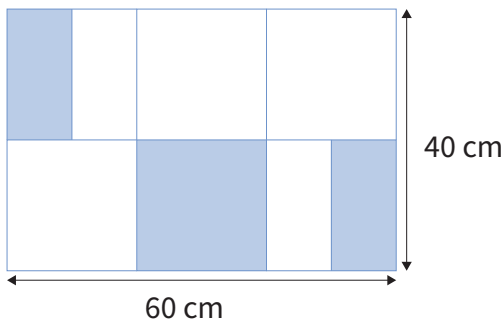
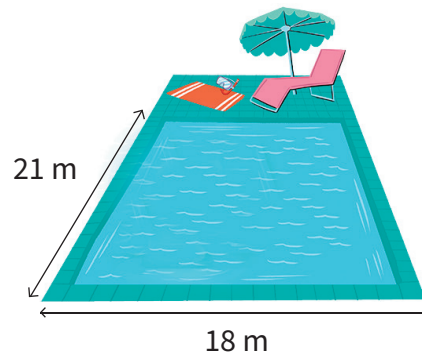
Een boer heeft een weiland van 153 meter lang en 94 meter breed.

Wat is de oppervlakte van dit weiland?

Wat is de omtrek van het weiland?

3072 m²

494 m



Het nieuwe zwembad is 18 meter breed en 21 meter lang.

Wat is de omtrek van het nieuwe zwembad?

Wat is de oppervlakte van het witte deel?

1600 cm²

78 m

€ 59,95



Oefenboeken van Junior Einstein

De beste voorbereiding op de Doorstroomtoets



+ online uitleg bij elke vraag

Scan & bestel direct!

