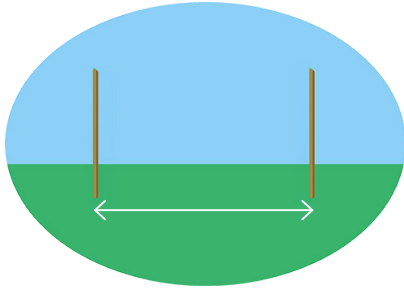


Getallen en bewerkingen

1 $2420 : 220 = \underline{\hspace{2cm}}$

2



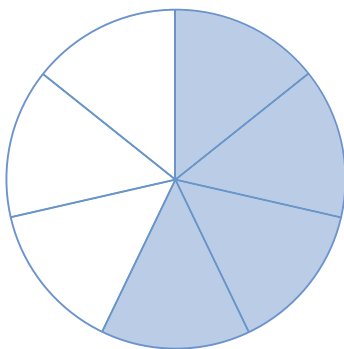
Een boer plaatst 24 paaltjes langs de wei.
De afstand tussen elk paaltje is telkens weer 3 meter.

Wat is de totale afstand tussen het eerste en het laatste paaltje in meter?

 meter

Verhoudingen

3



Welke breuk hoort bij het gekleurde deel van dit figuur?

$\frac{4}{8}$

$\frac{3}{7}$

$\frac{2}{3}$

$\frac{4}{7}$

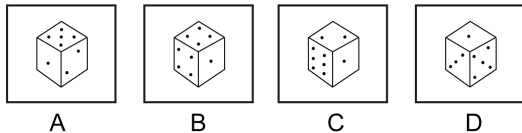
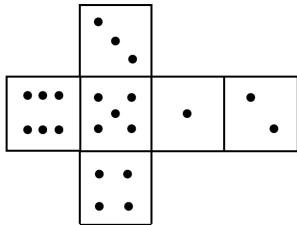
- 4 Loes wil een jurk kopen van 120 euro.
Ze heeft al 72 euro gespaard.

Welk deel moet ze nog sparen?

- $\frac{1}{5}$ deel $\frac{3}{5}$ deel
 $\frac{2}{5}$ deel $\frac{4}{5}$ deel

Metten en Meetkunde

5



Welke kubus hoort bij de uitslag?

- A
 B
 C
 D

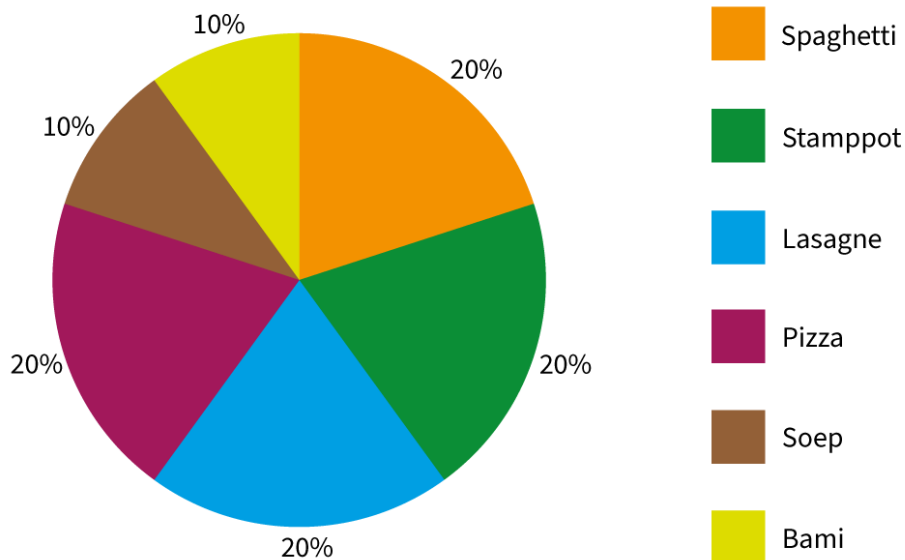
- 6 In de frisdrankfles zit 2 liter cola.
Annabel drinkt in totaal 300 milliliter cola.

Hoeveel liter zit er daarna nog in de frisdrankfles?

_____ liter

Verbanden

Opgave 7 en 8 horen bij onderstaande cirkeldiagram.



7 400 kinderen beantwoordden de vraag: wat is jouw lievelingseten?

Hoeveel kinderen samen vinden bami of lasagne het lekkerst?

- 115 kinderen
- 120 kinderen
- 125 kinderen
- 130 kinderen

8 Hoeveel kinderen meer kiezen voor spaghetti als hun lievelingseten in vergelijking met bami?

_____ kinderen